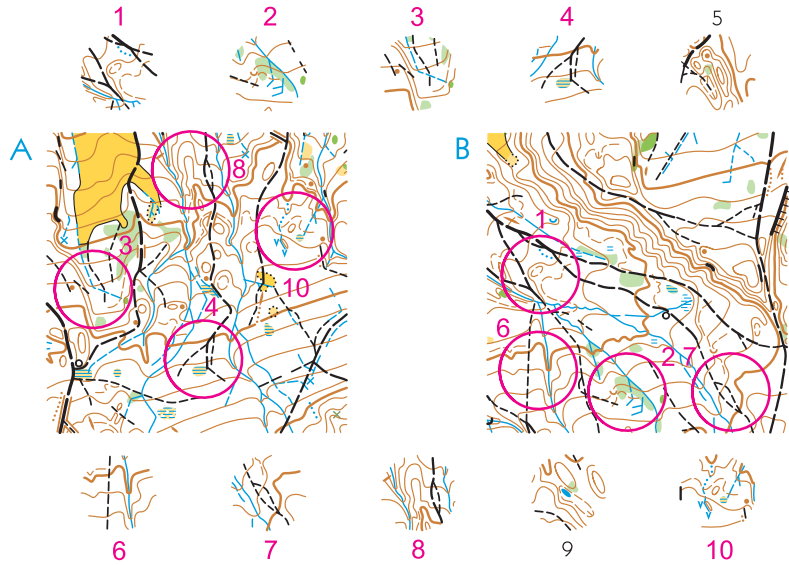


Wieviele Rondellen sind aus A und wieviele aus B?
 Combien de cercles proviennent de A et combien de B?
 Quanti elementi sono tolti da A e quanti da B?

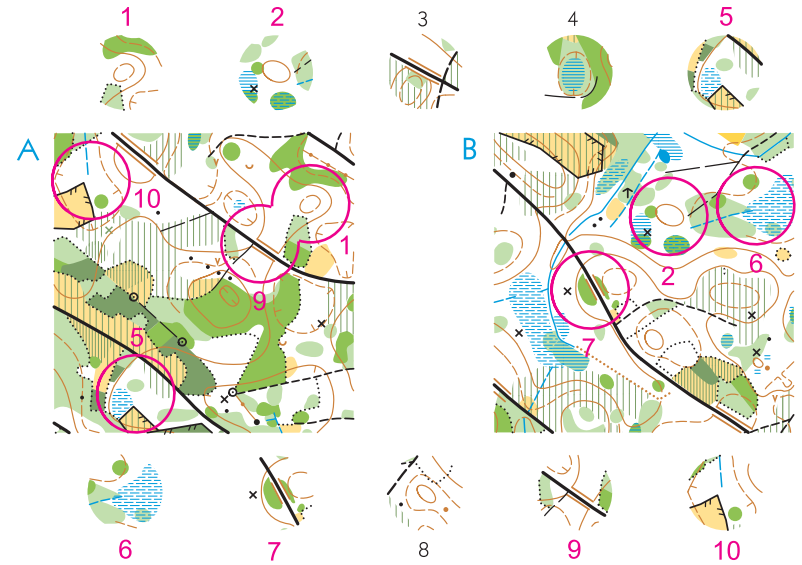
A 4
B 4



Serie 1-7

Wieviele Rondellen sind aus A und wieviele aus B?
 Combien de cercles proviennent de A et combien de B?
 Quanti elementi sono tolti da A e quanti da B?

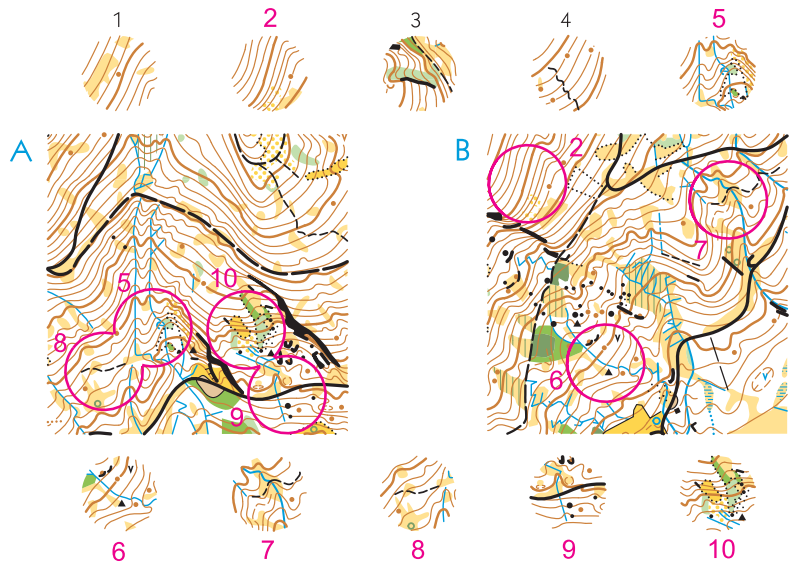
A 4
B 3



Serie 2-7

Wieviele Rondellen sind aus A und wieviele aus B?
 Combien de cercles proviennent de A et combien de B?
 Quanti elementi sono tolti da A e quanti da B?

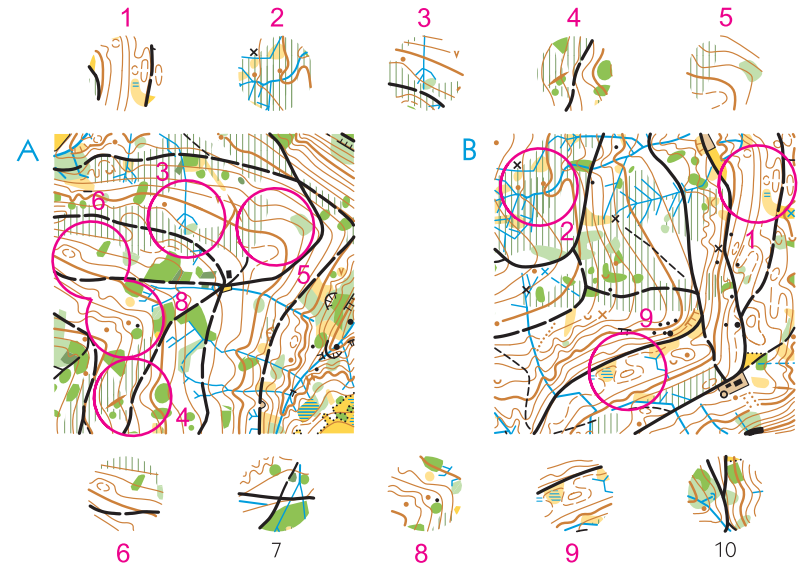
A 4
B 3



Serie 3-7

Wieviele Rondellen sind aus A und wieviele aus B?
 Combien de cercles proviennent de A et combien de B?
 Quanti elementi sono tolti da A e quanti da B?

A 5
B 3



Serie 4-7